



COLEGIO : GABRIELA MISTRAL
 ASIGNATURA : HISTORIA
 UNIDAD : ¿CÓMO NOS UBICAMOS EN EL PLANETA?
 DOCENTE : MARIELA SÁEZ YÁÑEZ
 CURSO : TERCER AÑO


GUÍA NÚMERO 3

OBJETIVOS ESPECÍFICOS:

- Identificar elementos que nos ayudan a ubicarnos en el planeta Tierra.
- Leer y comunicar información geográfica a través de distintas herramientas (planos, mapas, globos terráqueos y diagramas).

INSTRUCCIONES:

1. Escribe con lápiz grafito.
2. Responde la guía en un lugar habilitado de tu casa para trabajar.
3. Responde en tu texto de Historia las páginas 32, 33, 34 y 35
4. Como material de apoyo observa el video explicativo en :
<https://www.youtube.com/watch?v=QgEgxfRWME>



¡Hola ! antes de resolver la guía Recuerda que :

Si quisiéramos ver la totalidad de la Tierra, deberíamos salir al espacio. Como esto no es posible para todos, se han buscado formas de representar a todo el planeta, como el **globo terráqueo** y el **mapamundi**.

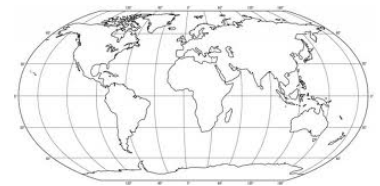
Muchas fotografías muestran a la Tierra redonda, pero en realidad tiene una forma irregular, que los científicos llaman **geoide**.



El **globo terráqueo** representa a la tierra como un cuerpo esférico, pero tiene algunas desventajas. Por ejemplo, no permite ver toda la superficie de la Tierra de una vez y son difíciles de transportar si nos vamos de viaje.



Para solucionar estas dificultades, se creó el **planisferio o mapamundi**, que es un mapa que nos permite ver toda la superficie de la Tierra de una sola vez y es fácil de transportar.



AHORA A RESPONDER LAS SIGUIENTES PREGUNTAS

1. Piensa y completa la tabla usando la información anterior.

Representaciones de la tierra	Ventajas	Desventajas
Globo terráqueo		
Mapamundi		

2. OBSERVA A LOS NIÑOS DE LA IMAGEN Y MARCA CON UN X LA RESPUESTA CORRECTA.



a. ¿Qué están mirando los niños?

_____ Un globo terráqueo.

_____ Un mapamundi.

b. ¿El niño ve la misma parte de la Tierra que tú?

_____ Si _____ No





3. Si tuvieras que presentar a tus compañeros todos los continentes y océanos a la vez, ¿qué tipo de representación de la Tierra elegirías?

4. Lee la descripción y escribe a cuál representación de la tierra corresponde:

Representa el mundo entero, pero en forma plana, y muestra toda su superficie al mismo tiempo.

Muestra el mundo entero y representa mejor la forma terrestre.

5. Escribe el nombre de los siguientes elementos.










6. Lee cada descripción y anota a cuál de las representaciones de la Tierra pertenece.

¿ **Planisferio** - **Globo terráqueo**?

Representa mejor la forma de la Tierra.	
Muestra toda la superficie de la Tierra de una vez.	
No representa la forma de la tierra	
Muestra sólo una parte de la Tierra a la vez	

¿ CÓMO LO HICE?

Evalúa tu desempeño ,pintando el semáforo que representa tu respuesta al resolver la guía.

				
LOGRADO	MEDIANAMENTE LOGRADO	POR LOGRAR		
INDICADORES		NIVEL DE DESEMPEÑO		
		L	ML	PL
Manifiesto un estilo de trabajo ordenado y metódico.				
Comprendo las ventajas y desventajas de un Planisferio y Globo terráqueo				
Identifico las formas de representar la tierra.		